

Шифр Б-15

Ставропольский край Труновский округ  
Школьный этап всероссийской олимпиады школьников  
2023/24 учебного года

*Лебедев*

1 - 17

2 - 20

3 - 15

4 - 20

Работа

по

*Технологии*

*4л.*


ученика (цы) 8.8 класса

МКОУ СОШ №1

с. Труновское

Баладжитой Анастасии Ивановны  
(ФИО полностью)

27 сентября 2023 года



Всероссийская олимпиада школьников по технологии  
2023/24 учебный год  
Школьный этап  
7-8 класс

Кулинария

† 1. Отметьте знаком «+» правильные ответы.

Кисломолочными продуктами являются:

- 1 -  - молоко;
- 2 -  - кефир;
- 3 -  - мороженое;
- 4 -  - сметана.

† 2. Отметьте знаком «+» правильные ответы. К доброкачественным крупам относятся:

- а) крупа с посторонними примесями;
- б) крупа, имеющая запах;
- в) крупа без пятен;
- г) крупа без мусора;
- д) крупа, состоящая из крупинок одинакового размера.

† 3. Отметьте знаком «+» правильный ответ.

Из массы, в состав которой входят протертый творог, манная крупа, желтки, растертые с сахаром, ванилин, изюм, орехи, взбитые белки, готовятся:

- 1 -  - запеканка;
- 2 -  - пудинг;
- 3 -  - вареники;
- 4 -  - сырники.

† 4. Отметьте знаком «+» правильный ответ.

Для укрепления защитных сил организма необходим витамин:

- 1 -  - А;
- 2 -  - Д;
- 3 -  - Е;
- 4 -  - С.

† 5. Отметьте знаком «+» правильный ответ

Какая маркировка проставлена на разделочной доске для сырых овощей:

- 1 -  - ВО;
- 2 -  - СР;
- 3 -  - СО.

Материаловедение

† 6. Отметьте «+» все правильные ответы.

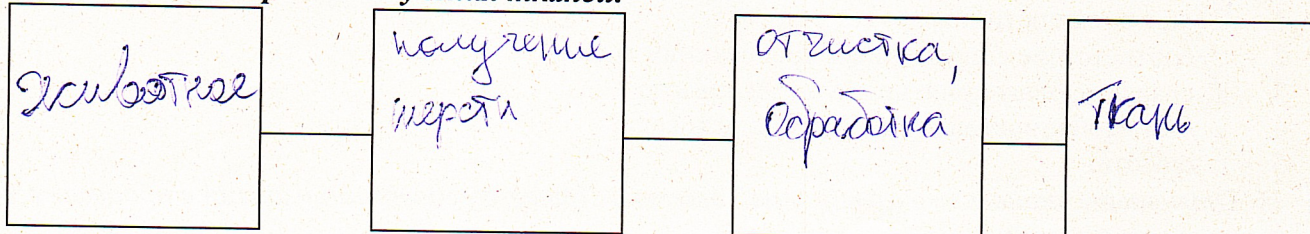
Природный цвет волокон шерсти бывает:

- 1 -  - белый;
- 2 -  - черный;
- 3 -  - оранжевый;
- 4 -  - коричневый;
- 5 -  - серый.

† 7. Назовите виды тканей из натуральных волокон животного происхождения:

Ответ: Искусство, Искусство

8. Составьте алгоритм получения тканей:



## Машиноведение

### + 9. Отметьте знаком «+» правильный ответ

Винт в шпульном колпачке нужен:

- 1 -  - для регулирования натяжения верхней нити;
- 2 -  - для регулирования натяжения нижней нити;
- 3 -  - для регулирования натяжения верхней и нижней нитей.

### + 10. Укажите цифрами в левом столбце правильную последовательность заправки верхней и нижней нитей в швейной машине.

1	Вставить шпульку в шпульный колпачок	А
3	Заправить верхнюю нить	Б
2	Придерживая верхнюю нить левой рукой, поворачивая на себя правой рукой маховое колесо, достать нижнюю нить.	В
4	Вставить шпульный колпачок в челночное устройство	Г

### + 11. Отметьте знаком «+» правильный ответ.

Челночный механизм находится:

- 1 -  - на платформе
- 2 -  - на стойке рукава
- 3 -  - на рукаве
- 4 -  - под платформой
- 5 -  - на головке рукава

### - 12. Отметьте знаком «+» все правильные ответы:

Причиной пропуска стежков швейной машиной может быть:

- 1 -  - неправильная установка иглы
- 2 -  - несоответствие номера иглы номеру нити
- 3 -  - нитки сильно крученые или вошенные
- 4 -  - сильное натяжение нижней нити
- 5 -  - сильное натяжение верхней нити

## Конструирование – моделирование

### + 13. Отметьте знаком «+» все правильные ответы:

Результаты измерения нужно разделить пополам при записи следующих мерок:

- 1 -  - Сш;
- 2 -  - Оп;
- 3 -  - Ст;
- 4 -  - Сб;
- 5 -  - Ди.

### 14. Отметьте знаком «+» все правильные ответы:

Юбки по конструкции бывают:

- 1 - прямая;
- 2 - клиньевая;
- 3 - диагональная;
- 4 - коническая;
- 5 - трапеция.

### - 15. Отметьте знаком «+» все правильные ответы:

Перечислите эстетические требования к одежде:

- 1 -  учёт внешности и возраста человека;
- 2 -  соответствие современным требованиям моды;
- 3 -  создание благоприятного микроклимата;
- 4 -  учёт особенностей телосложения человека;
- 5 -  красота.

### + 16. Отметьте знаком «+» правильные ответы Примерку швейного изделия в процессе его пошива производят;

- а) для правильной посадки изделия по фигуре;
- б) для вшивания молнии;
- в) для обработки нижнего среза

† 17. Установите соответствие между условными обозначениями мерок и их названием:

- |        |   |                      |
|--------|---|----------------------|
| 1. Ст  | А | Длина спины до талии |
| 2. Вс  | Б | Полуобхват талии     |
| 3. Сб  | В | Обхват плеча         |
| 4. Оп  | Г | Высота сидения       |
| 5. Дтс | Д | Полуобхват бёдер     |

- 1 - Б., 2 - Г., 3 - В., 4 - Д., 5 - А.

† 18. Расшифруйте обозначения мерок:

- СШ - обхват шеи
- СТ - обхват груди
- ДИ - длина шир

### Технология

19. Обозначьте цифрами от 1 до 9 правильную последовательность технологических операций при раскладке выкройки на ткани:

- 3  А - разложить мелкие детали
- 2  Б - разложить крупные детали
- 4  В - сколоть ткань булавками
- 6  Г - приколоть мелкие детали
- 5  Д - приколоть крупные детали
- 1  Е - определить лицевую сторону ткани
- 8  Ж - нанести контрольные линии и точки
- 7  З - разметить припуски на обработку
- 9  И - обвести детали по контуру

Отметьте знаком «+» правильный ответ

† 20. В какой боковой шов втачивается тесьма «молния» в женской одежде:

- 1 -  - правый;
- 2 -  - левый.

21. Допишите предложение:

Временное ниточное закрепление подогнутого края детали это - воротник

### Рукоделие

† 22. Отметьте знаком «+» все правильные ответ

Из отходов ткани при раскрое швейных изделий может изготовить:

- 1 - прихватки для кухни
- 2 - лоскутное одеяло
- 3 - чехол для декоративной подушки
- 4 - носовой платок
- 5 - нижнее бельё

23. Перечислите не менее трех видов рукоделия:

вышивание крестиком, шитье одежды, вышивание тиссером


† 24. Длина стежка - это:

- 1 -  - расстояние от среза детали до линии строчки;
- 2 -  - расстояние от начала до конца строчки;
- 3 -  - расстояние между двумя проколами иглы

† 25. Определите по рисунку вид ручного шва



- шов за и молнии



Шифр Р-5

Ставропольский край Труновский округ  
Школьный этап всероссийской олимпиады школьников  
2023/24 учебного года

Работа  
по *технологии*


1 - 20  
2 - 25  
3 - 20  
4 - 0  
-----  
65

*Лободкина*

ученика (цы) 6 А класса  
МКОУ СОШ №2  
с. Труновское

Романовой Софии Игоревны  
(ФИО полностью)

27 сентября 2023 года





**Всероссийская олимпиада школьников по технологии  
2023/24 учебный год  
Школьный этап  
5-6 класс**

**Отметьте знаком «+» все правильные ответы (один или несколько).**

1. Салатными заправками являются:

- + а) майонез;
- + б) сметана;
- в) уксус;
- + г) растительное масло.

2. Является ли бутербродом хлеб с маслом?

- а) нет;
- + б) да.

3. Тепловая обработка овощей это:

- + а) варка;
- б) замораживание;
- + в) жарение;
- + г) тушение;
- д) сушение.

4. Определи последовательность приготовления блюд из вареных овощей.

- А) заправка.
- Б) тепловая обработка.
- В) первичная обработка (сортировка, мойка, очистка).
- Г) охлаждение, нарезка, соединение овощей.
- Д) оформление, подача к столу. 1 В, 2 Б, 3 А, 4 Г, 5 Д.


5. Вставьте пропущенные слова.

Винегрет - разновидность салата, в состав которого обязательно входит свежий.

6. Внимательно рассмотри рисунки. Определи по положению яйца в воде его свежесть.



а) Свежее  
Плотное - непрозрачное



б) не достаточно свежее  
Среднее



в) Свежее  
недоформированное

7. Определить, является куриное яйцо вареным или сырым, можно:

- + а) опустить яйцо в сосуд с водой;
- + б) по звуку, издаваемому яйцом при его встряхивании;
- + в) кручением яйца на поверхности стола;
- г) по внешнему виду.

8. Когда яйцо сварено «в мешочек», у него:

- а) крутые желток и белок;
- + б) жидкие белок и желток;
- в) жидкий желток, крутой белок.

9. Заполните пропуски в тексте.

1. Недостаток витамина Д... ведет к развитию рахита.
2. Витамин А... укрепляет защитные силы организма.
3. Витамин А... способствует росту, развитию, улучшает зрение.
4. Витамин Е... улучшает обмен веществ в организме.

10. Установите соответствие.

1. Пряновкусовые	А. Петрушка, майоран, укроп, мята перечная.
2. Корнеплоды	Б. Брюква, пастернак, свекла, редис, морковь.
3. Листовые	В. Бата, топинамбур, картофель.

1 А, 2 Б, 3 В, 4 Г

11 Ткань, окрашенная в один цвет, называется:

- а) окрашенная;
- б) однотонная;
- в) гладкокрашенная;
- г) отбеленная;
- д) цветная.

12. Волокна растительного происхождения получают из:

- а) крапивы;
- б) льна;
- в) шерсти;
- г) хлопка.
- д) джута

13. Укажите последовательность этапов получения ткани:

- а) отделка;
- б) прядение;
- в) первичная обработка волокна;
- г) ткачество;
- д) производство суровой ткани.

Ответ: 1 А, 2 Б, 3 В, 4 Г, 5 Д.

14. Наиболее подходящими для изготовления фартука являются ткани:

- а) шерстяные;
- б) льняные;
- в) хлопчатобумажные.

15. Процесс получения ткани из ниток путем их переплетения называется:

- а) прядением;
- б) ткачеством;
- в) отделкой.

16. Напишите четыре примера хлопчатобумажной ткани:

Ответ:  
\_\_\_\_\_

17. При раскрое ткани пользуются ножницами:

- а) маникюрными;
- б) садовыми;
- в) канцелярскими;
- г) портновскими.

18. В машинной игле ушко находится:

- а) в середине иглы;
- б) рядом с острием;
- в) там же, где у иглы для ручного шитья.

19. В бытовой швейной машине имеются регуляторы:

- а) длины стежка;
- б) ширины стежка;
- в) ширины зигзага;
- г) натяжения верхней нити.

20. Укажите цифрами в левом столбце правильную последовательность заправки нижней нити швейной машины.

- А. Провести нить через косую прорезь шпульного колпачка
- Б. Вставить шпульный колпачок в челночное устройство
- В. Вытянуть нижнюю нить вверх через отверстие в игольной пластине
- Г. Намотать нить на шпульку
- Д. Заправить нить под прижимную пружину шпульного колпачка
- Е. Вставить шпульку в шпульный колпачок

1. Е  
2. Б  
3. Д  
4. А  
5. В  
6. Г