

Шифр 713

Ставропольский край Труновский округ
Школьный этап всероссийской олимпиады школьников
2023/24 учебного года

Работа
по математике

1 - 12
2 - 20
3 - 15
4 - 10
57


ученика (цы) 3а класса

МКОУ СОШ № 2

с. Труновское

Цибова Аиша Эдуардовна
(ФИО полностью)

24 сентября 2023 года



Всероссийская олимпиада школьников по технологии
2023/24 учебный год
Школьный этап
7-8 класс

Кулинария

† 1. Отметьте знаком «+» правильные ответы.

Кисломолочными продуктами являются:

- 1 - - молоко;
- 2 - - кефир;
- 3 - - мороженое;
- 4 - - сметана.

† 2. Отметьте знаком «+» правильные ответы. К доброкачественным крупам относятся:

- а) крупа с посторонними примесями;
- б) крупа, имеющая запах;
- в) крупа без пятен;
- г) крупа без мусора;
- д) крупа, состоящая из крупинок одинакового размера.

† 3. Отметьте знаком «+» правильный ответ.

Из массы, в состав которой входят протертый творог, манная крупа, желтки, растертые с сахаром, ванилин, изюм, орехи, взбитые белки, готовятся:

- 1 - - запеканка;
- 2 - - пудинг;
- 3 - - вареники;
- 4 - - сырники.

~ 4. Отметьте знаком «+» правильный ответ.

Для укрепления защитных сил организма необходим витамин:

- 1 - - А;
- 2 - - Д;
- 3 - - Е;
- 4 - - С.

† 5. Отметьте знаком «+» правильный ответ

Какая маркировка проставлена на разделочной доске для сырых овощей:

- 1 - - ВО;
- 2 - - СР;
- 3 - - СО.

Материаловедение

† 6. Отметьте «+» все правильные ответы


Природный цвет волокон шерсти бывает:

- 1 - - белый;
- 2 - - черный;
- 3 - - оранжевый;
- 4 - - коричневый;
- 5 - - серый.

† 7. Назовите виды тканей из натуральных волокон животного происхождения:

Ответ: шерсть, шелк.....

✳ 8. Составьте алгоритм получения тканей:



Машиноведение

9. Отметьте знаком «+» правильный ответ

Винт в шпульном колпачке нужен:

- 1 - - для регулирования натяжения верхней нити;
- 2 - - для регулирования натяжения нижней нити;
- 3 - - для регулирования натяжения верхней и нижней нитей.

10. Укажите цифрами в левом столбце правильную последовательность заправки верхней и нижней нитей в швейной машине.

1	Вставить шпульку в шпульный колпачок	А
3	Заправить верхнюю нить	Б
2	Придерживая верхнюю нить левой рукой, поворачивая на себя правой рукой маховое колесо, достать нижнюю нить.	В
4	Вставить шпульный колпачок в челночное устройство	Г

11. Отметьте знаком «+» правильный ответ.

Челночный механизм находится:

- 1 - - на платформе
- 2 - - на стойке рукава
- 3 - - на рукаве
- 4 - - под платформой
- 5 - - на головке рукава

12. Отметьте знаком «+» все правильные ответы:

Причиной пропуска стежков швейной машиной может быть:

- 1 - - неправильная установка иглы
- 2 - - несоответствие номера иглы номеру нити
- 3 - - нитки сильно крученые или вощенные
- 4 - - сильное натяжение нижней нити
- 5 - - сильное натяжение верхней нити

Конструирование – моделирование

13. Отметьте знаком «+» все правильные ответы:

Результаты измерения нужно разделить пополам при записи следующих мерок:

- 1 - - Сш;
- 2 - - Оп;
- 3 - - Ст;
- 4 - - Сб;
- 5 - - Ди.

14. Отметьте знаком «+» все правильные ответы:

Юбки по конструкции бывают:

- 1 - прямая;
- 2 - клиньевая;
- 3 - диагональная;
- 4 - коническая;
- 5 - трапеция.

15. Отметьте знаком «+» все правильные ответы:

Перечислите эстетические требования к одежде:

- 1 - учёт внешности и возраста человека;
- 2 - соответствие современным требованиям моды;
- 3 - создание благоприятного микроклимата;
- 4 - учёт особенностей телосложения человека;
- 5 - красота.

16. Отметьте знаком «+» правильный ответ Примерку швейного изделия в процессе его пошива производят;

- а) для правильной посадки изделия по фигуре;
- б) для вшивания молнии;
- в) для обработки нижнего среза

† 17. Установите соответствие между условными обозначениями мерок и их названием:

- | | |
|--------|------------------------|
| 1. Ст | А Длина спины до талии |
| 2. Вс | Б Полуобхват талии |
| 3. Сб | В Обхват плеча |
| 4. Оп | Г Высота сидения |
| 5. Дтс | Д Полуобхват бёдер |

1 - ...б., 2 - ...в., 3 - г., 4 - б., 5 - а.

† 18. Расшифруйте обозначения мерок:

- СШ - обхват шеи
- СТ - обхват головы
- ДИ - длины

Технология

~ 19. Обозначьте цифрами от 1 до 9 правильную последовательность технологических операций при раскладке выкройки на ткани:

- 6 А - разложить мелкие детали
- 5 Б - разложить крупные детали
- 9 В - сколоть ткань булавками
- 8 Г - приколоть мелкие детали
- 7 Д - приколоть крупные детали
- 4 Е - определить лицевую сторону ткани
- 2 Ж - нанести контрольные линии и точки
- 3 З - разметить припуски на обработку
- 1 И - обвести детали по контуру

Отметьте знаком «+» правильный ответ

~ 20. В какой боковой шов втачивается тесьма «молния» в женской одежде:

- 1 - - правый;
- 2 - - левый.

21. Допишите предложение:

Временное ниточное закрепление подогнутого края детали это - воршишки

Рукоделие

~ 22. Отметьте знаком «+» все правильные ответ

Из отходов ткани при раскрое швейных изделий может изготовить:

- 1 - прихватки для кухни
- 2 - лоскутное одеяло
- 3 - чехол для декоративной подушки
- 4 - носовой платок
- 5 - нижнее бельё


~ 23. Перечислите не менее трех видов рукоделия:

вышивание, вязание, шитье

† 24. Длина стежка - это:

- 1 - - расстояние от среза детали до линии строчки;
- 2 - - расстояние от начала до конца строчки;
- 3 - - расстояние между двумя проколами иглы

~ 25. Определите по рисунку вид ручного шва



крючком

Шифр A-16

Ставропольский край Труновский округ
Школьный этап всероссийской олимпиады школьников
2023/24 учебного года

1 - 10
2 - 20
3 - 15
4 - 20
65

Работа
по - Технологии

ученика (цы) 8^{кл} класса
МКОУ СОШ № 2
с. Труновское

Алиевой Динары Аубакировны
(ФИО полностью)

27 сентября 2023 года

- а) для правильной посадки изделия по фигуре;
- б) для вшивания молнии;
- в) для обработки нижнего среза

+ 17. Установите соответствие между условными обозначениями мерок и их названием:

- | | |
|--------|------------------------|
| 1. Ст | А Длина спины до талии |
| 2. Вс | Б Полуобхват талии |
| 3. Сб | В Обхват плеча |
| 4. Оп | Г Высота сидения |
| 5. Дтс | Д Полуобхват бёдер |

1 - Б, 2 - Г, 3 - В, 4 - Д, 5 - А

- 18. Расшифруйте обозначения мерок:

Сш - обхват шеи

Ст - обхват головы

Ди - длина

Технология

- 19. Обозначьте цифрами от 1 до 9 правильную последовательность технологических операций при раскладке выкройки на ткани:

- а) А - разложить мелкие детали
- б) Б - разложить крупные детали
- в) В - сколоть ткань булавками
- г) Г - приколоть мелкие детали
- д) Д - приколоть крупные детали
- е) Е - определить лицевую сторону ткани
- ж) Ж - нанести контрольные линии и точки
- з) З - разметить припуски на обработку
- и) И - обвести детали по контуру

Отметьте знаком «+» правильный ответ

+ 20. В какой боковой шов втачивается тесьма «молния» в женской одежде:

- 1 - □ - правый;
- 2 - ⊕ - левый.

- 21. Допишите предложение:

Временное ниточное закрепление подогнутого края детали это - воротник

Рукоделие

+ 22. Отметьте знаком «+» все правильные ответ

Из отходов ткани при раскрое швейных изделий может изготовить:

- ⊕ - 1 - прихватки для кухни
- ⊕ - 2 - лоскутное одеяло
- ⊕ - 3 - чехол для декоративной подушки
- ⊕ - 4 - носовой платок
- - 5 - нижнее бельё

- 23. Перечислите не менее трех видов рукоделия:

вышивание, вязание, шитье одежды, вязание


+ 24. Длина стежка - это:

- 1 - □ - расстояние от среза детали до линии строчки;
- 2 - □ - расстояние от начала до конца строчки;
- 3 - ⊕ - расстояние между двумя проколами иглы

- 25. Определите по рисунку вид ручного шва



шитье иголкой, ручной



Всероссийская олимпиада школьников по технологии
2023/24 учебный год
Школьный этап
7-8 класс

Кулинария

1. Отметьте знаком «+» правильные ответы.

Кисломолочными продуктами являются:

- 1 - - молоко;
- 2 - - кефир;
- 3 - - мороженое;
- 4 - - сметана.

2. Отметьте знаком «+» правильные ответы. К доброкачественным крупам относятся:

- а) крупа с посторонними примесями;
- б) крупа, имеющая запах;
- в) крупа без пятен;
- г) крупа без мусора;
- д) крупа, состоящая из крупинок одинакового размера.

3. Отметьте знаком «+» правильный ответ.

Из массы, в состав которой входят протертый творог, манная крупа, желтки, растертые с сахаром, ванилин, изюм, орехи, взбитые белки, готовятся:

- 1 - - запеканка;
- 2 - - пудинг;
- 3 - - вареники;
- 4 - - сырники.

4. Отметьте знаком «+» правильный ответ.

Для укрепления защитных сил организма необходим витамин:

- 1 - - А;
- 2 - - Д;
- 3 - - Е;
- 4 - - С.

5. Отметьте знаком «+» правильный ответ

Какая маркировка проставлена на разделочной доске для сырых овощей:

- 1 - - ВО;
- 2 - - СР;
- 3 - - СО.

Материаловедение

6. Отметьте «+» все правильные ответы

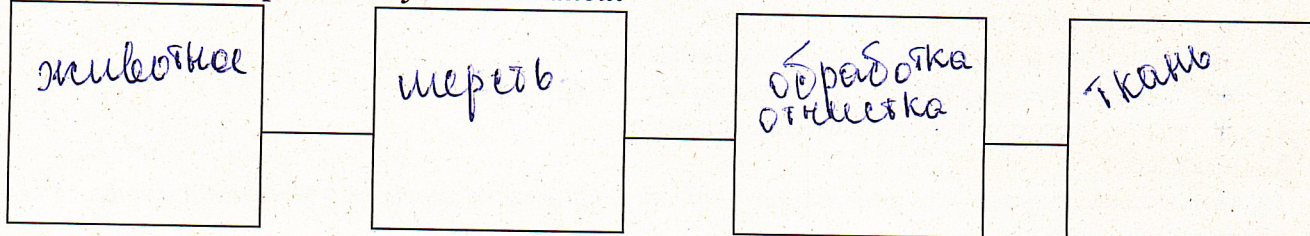
Природный цвет волокон шерсти бывает:

- 1 - - белый;
- 2 - - черный;
- 3 - - оранжевый;
- 4 - - коричневый;
- 5 - - серый.

7. Назовите виды тканей из натуральных волокон животного происхождения:

Ответ: шелк, шерсть

8. Составьте алгоритм получения тканей:



Машиноведение

+ 9. Отметьте знаком «+» правильный ответ

Винт в шпульном колпачке нужен:

- 1 - - для регулирования натяжения верхней нити;
- 2 - - для регулирования натяжения нижней нити;
- 3 - - для регулирования натяжения верхней и нижней нитей.

- 10. Укажите цифрами в левом столбце правильную последовательность заправки верхней и нижней нитей в швейной машине.

1	Вставить шпульку в шпульный колпачок	А
3	Заправить верхнюю нить	Б
2	Придерживая верхнюю нить левой рукой, поворачивая на себя правой рукой маховое колесо, достать нижнюю нить.	В
4	Вставить шпульный колпачок в челночное устройство	Г

+ 11. Отметьте знаком «+» правильный ответ.

Челночный механизм находится:

- 1 - - на платформе
- 2 - - на стойке рукава
- 3 - - на рукаве
- 4 - - под платформой
- 5 - - на головке рукава

- 12. Отметьте знаком «+» все правильные ответы:

Причиной пропуска стежков швейной машиной может быть:

- 1 - - неправильная установка иглы
- 2 - - несоответствие номера иглы номеру нити
- 3 - - нитки сильно крученые или вошечные
- 4 - - сильное натяжение нижней нити
- 5 - - сильное натяжение верхней нити

Конструирование – моделирование

+ 13. Отметьте знаком «+» все правильные ответы:

Результаты измерения нужно разделить пополам при записи следующих мерок:

- 1 - - Сш;
- 2 - - Оп;
- 3 - - Ст;
- 4 - - Сб;
- 5 - - Ди.

+ 14. Отметьте знаком «+» все правильные ответы:

Юбки по конструкции бывают:

- 1 - прямая;
- 2 - клиньевая;
- 3 - диагональная;
- 4 - коническая;
- 5 - трапеция.

+ 15. Отметьте знаком «+» все правильные ответы:

Перечислите эстетические требования к одежде:

- 1 - учёт внешности и возраста человека;
- 2 - соответствие современным требованиям моды;
- 3 - создание благоприятного микроклимата;
- 4 - учёт особенностей телосложения человека;
- 5 - красота.

+ 16. Отметьте знаком «+» правильный ответ Примерку швейного изделия в процессе его пошива производят;